

Prénom :

Fiche 19 : Déplacement dans le plan

Exercice 1

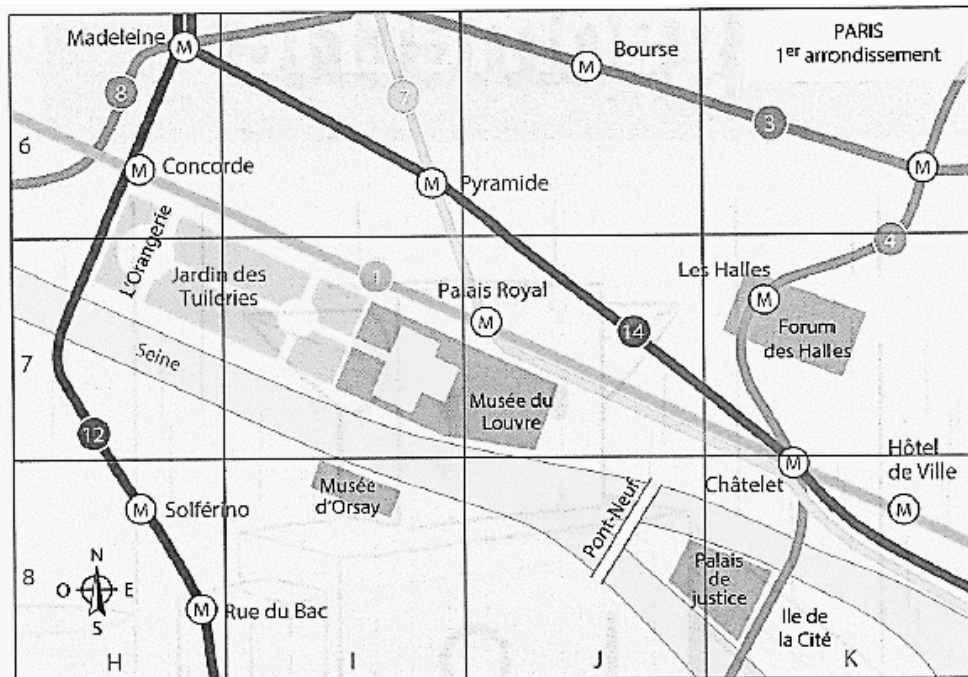
Observe ce plan du musée du Louvre à Paris et répond aux questions



- Où est située la pyramide du Louvre? La Cour Carrée?
- Le métro Palais Royal Musée du Louvre? La place du Carrousel?
- Dans quelles cases passe la rue de Rivoli?
- L'avenue du Général Lemonnier?
- Où se croisent ces deux rues?
- Est-ce que la rue Saint-Honoré et le quai du Louvre se croisent?

Exercice 2

Localise les différents lieux sur le plan



Le forum des Halles :

Le Palais de justice :

L'Orangerie :

Le métro Pyramide :

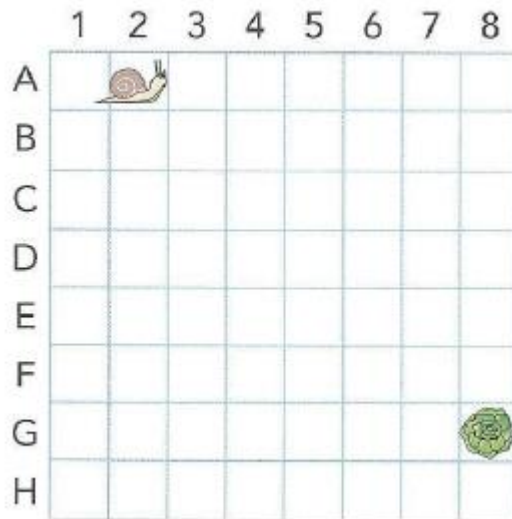
Prénom :

Exercice 3

L'escargot se déplace pour trouver la salade. Voici son chemin :

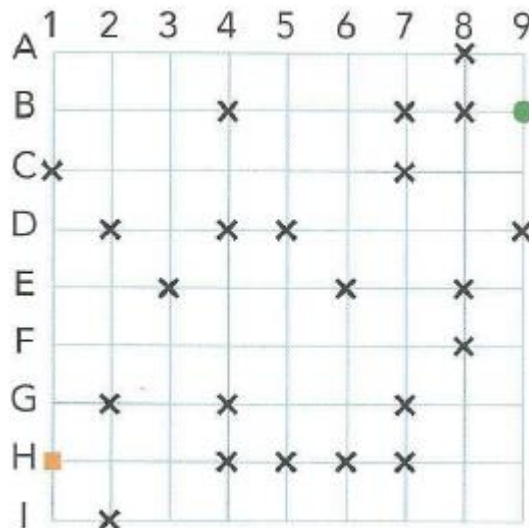
A3 – B3 – C3 – C4 – D4 – D5 – D6 – E6 – F6 – F7 – F8 – G8

Colorie son parcours



Exercice 4

Trace le déplacement de l'escargot pour aller du carré au rond sans passer par les croix ! Le déplacement se fait sur les lignes.



Écris le déplacement que vient de faire l'escargot :

H2 – H3 –

Prénom :

Exercice 5

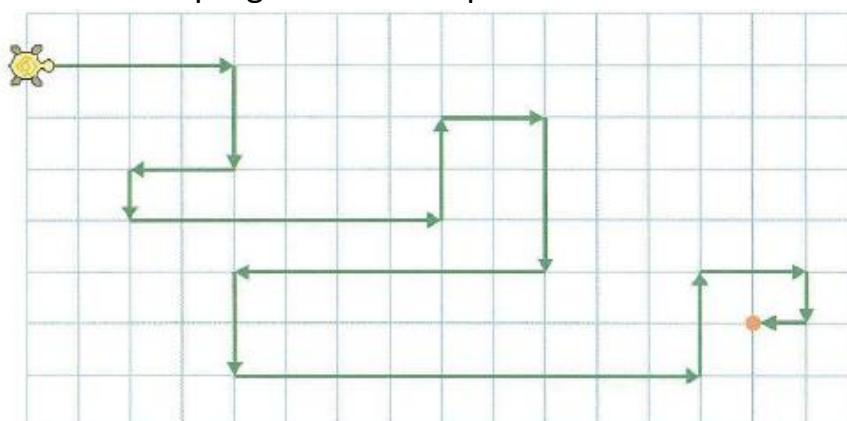
Dessine le trajet de la tortue en suivant les instructions

Programme de déplacement : avance de 3 – tourne à droite – avance de 4 – tourne à gauche – avance de 2 – tourne à gauche – avance de 5 – tourne à droite – avance de 6 – tourne à droite – avance de 7 – tourne à gauche – avance de 2



Exercice 6

Ecris de la même manière le programme de déplacement de la tortue



Le programme :

.....

.....

.....

.....


.....

.....







Prénom :







Exercice 7

Donne les coordonnées de chaque image (Lettre et puis numéro)



	(..... ;)
	(..... ;)
	(..... ;)
	(..... ;)
	(..... ;)
	(..... ;)

	(..... ;)
	(..... ;)
	(..... ;)
	(..... ;)
	(..... ;)
	(..... ;)

	(..... ;)
	(..... ;)
	(..... ;)
	(..... ;)
	(..... ;)
	(..... ;)